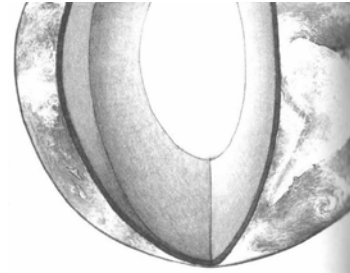
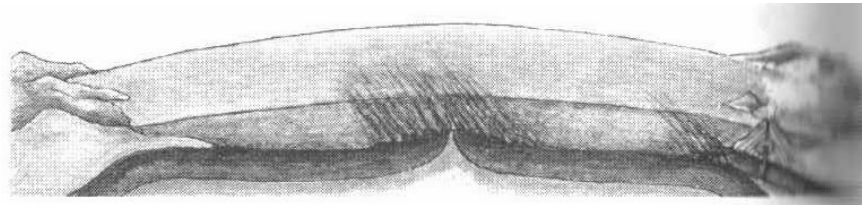


## Litosféra

1. V obrázku vyznač a dopiš názvy tří základních vrstev Země:



2. Dokresli a označ šipkami, co se děje na obrázku v kamenném obalu Země:



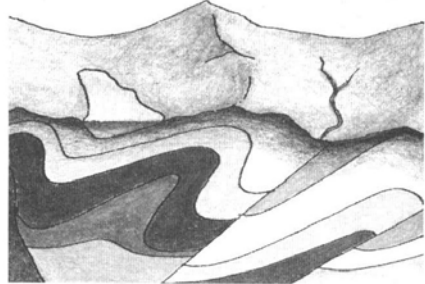
3. Přeškrtni nehodící se výraz:  
zemské, zemský, jádro, šlupka, zemská, plášť, kůra
4. Co tvoří nejsvrchnější část pevného zemského tělesa?
- A. ovzduší                      C. zemské jádro  
B. zemský plášť                D. zemská kůra
5. Nejčastější zemětřesení vznikají:
- A. otáčením Země kolem osy  
B. uvolněním napětí a tlaku pod zemským povrchem  
C. působením větru  
D. jinak

6. Spraš vzniká usazováním:

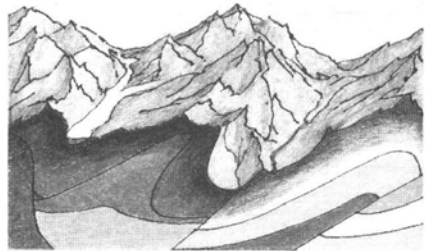
- A. sazí
- B. písku
- C. kamenů
- D. jinak

7. Dopíš, co se děje postupně s právě vzniklým pohořím v dalším vývoji:

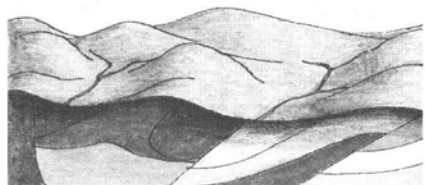
*Dopíš, co se děje postupně s právě vzniklým pohořím v dalším vývoji.*



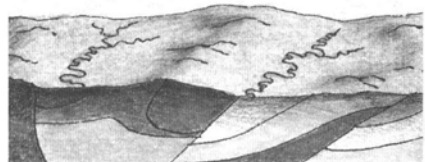
*Pohoří vzniká*



*Pohoří .....*



*Pohoří .....*



*Pohoří .....*

